



Волшебный счет

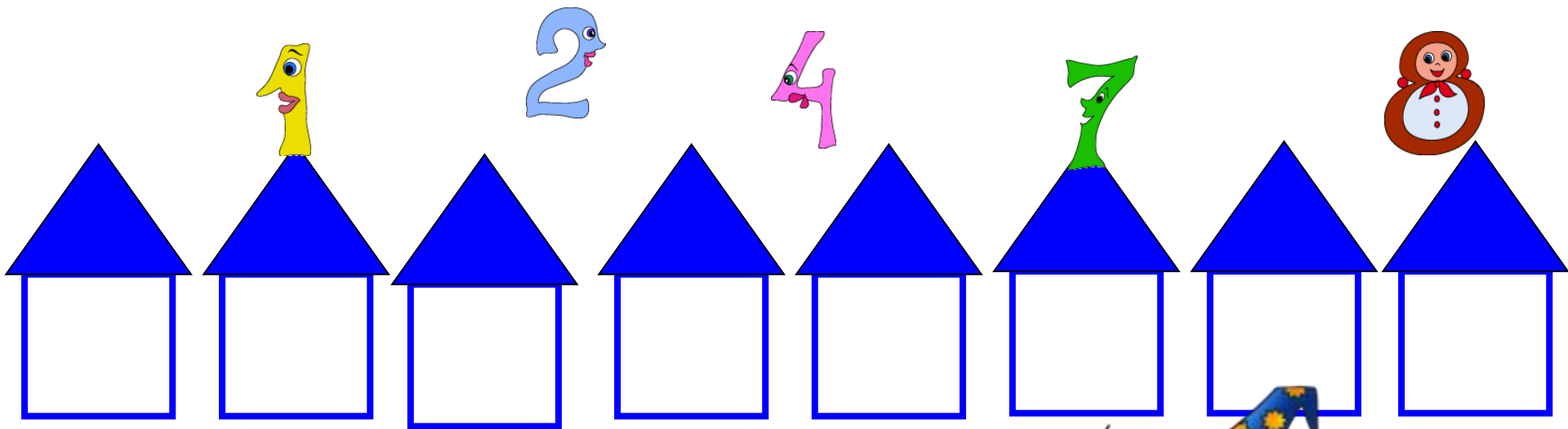
Интерактивные задания для устного счета
для детей средней группы



*Дорогие друзья!
Приглашаю вас в Страну
Математики. Вас ждут
волшебные задания.
Удачи!*



Помоги Волшебнику расселить числа в домики по возрастанию:

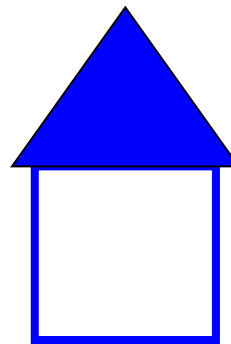


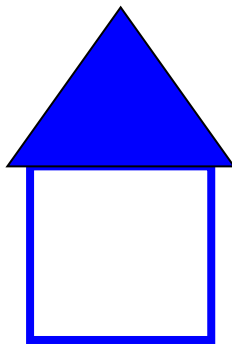
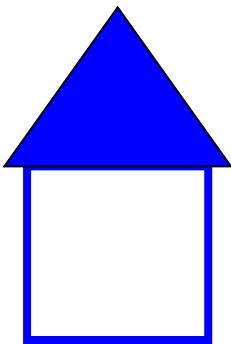

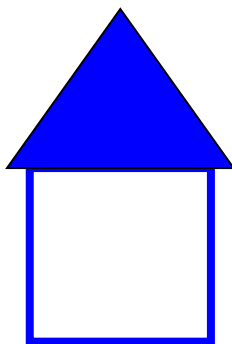
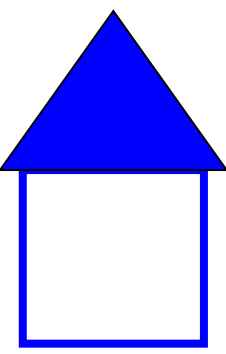


Помоги Волшебнику расселить числа в домики по убыванию:

7

5

3



10



4 9



Назови «соседей» числа

8 9 10

5 6 7

3 4 5

7 8 9

1 2 3

6 7 8


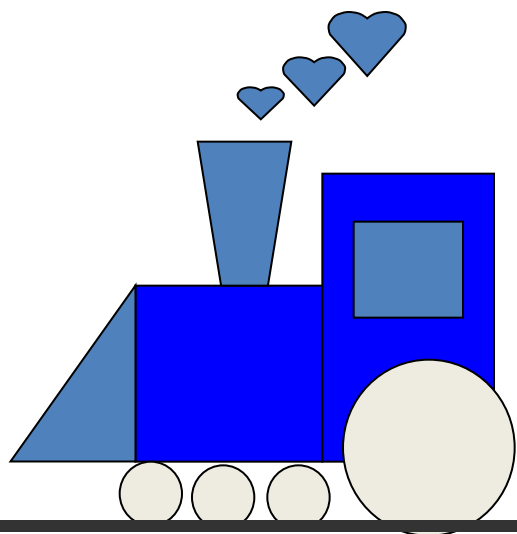




Уж
здорово!



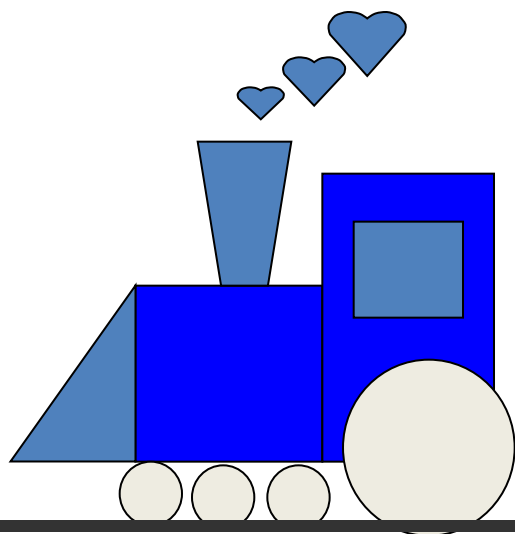
Найди номер последнего вагона



1 2 3 4 5 6 7 8 9 10



Найди номер последнего вагона



$$5 - 3 = 2$$

1 3 4 5 6 7 8 9 10



Gracioso!




Какие фигуры спрятаны в сундучке?

Ни угла, ни стороны,
А родня – одни блины.



круг



Выбери правильный ответ:

Большой рейсовый
ковер-самолёт вмещает
5 пассажиров. Сколько
пассажиров может
перевезти ковер-самолет
за два рейса?




Выбери правильный ответ:

У чародея 4 колдовских книг и 3 волшебные палочки. На сколько у чародея больше книг, чем волшебных палочек?



Выбери правильный ответ:

У бабы Яги на носу 3
бородавки, а у Кощея
Бессмертного – 2 бородавки.
Сколько бородавок теснится
на носу у Кощея
Бессмертного?



7

5

9




Какие фигуры спрятаны в сундучке?

Злая рыба, хвост-лопата,
Откусила полквадрата –
Целый угол, верь не верь!
Кто ж он, бедненький, теперь?



треугольник





Какие фигуры спрятаны в сундучке?

**Кубик в краску окуни,
Приложи и подними.
Вася десять раз так сделал—
Отпечатались они.**



квадраты



МОЛОДЦЫ!

